

時間は何時何分でしょう


とけいのはりはなんじなんふんでしょうか。
しかくのなかにじかんをかいてください。

例




1 時 50 分

①




時 分

②



時 分

③




時 分

④




時 分

⑤




時 分

⑥




時 分

⑦




時 分

⑧




時 分

⑨



時 分

⑩



時 分

